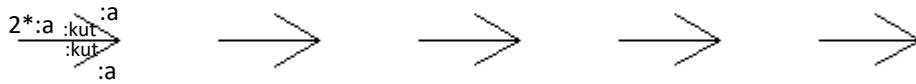


## Strelice

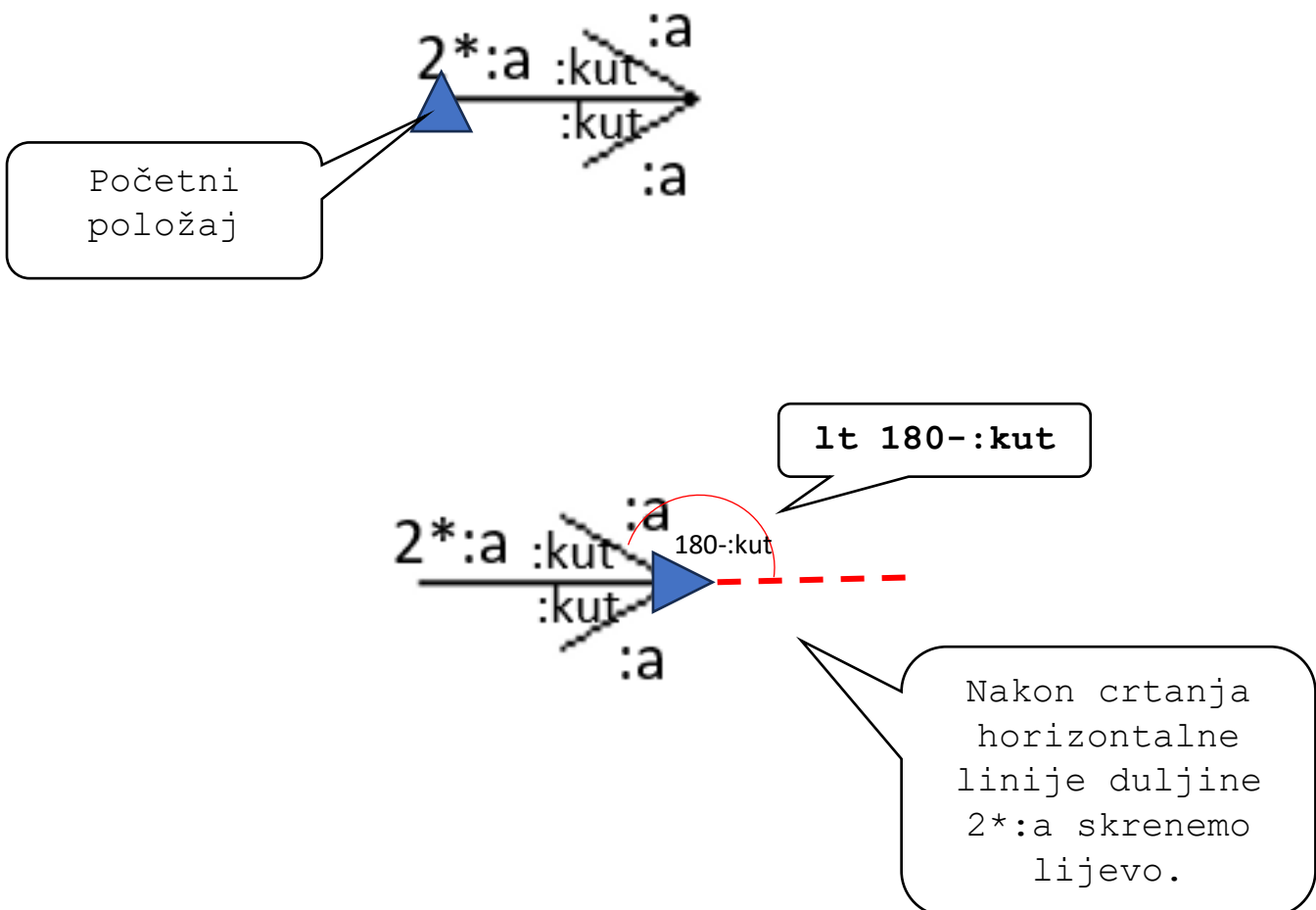
**Zadatak:** Napiši proceduru **strelice :n :a** koja crta :n strelica kao na crtežu ispod. Razmak između strelica iznosi  $2*a$ .

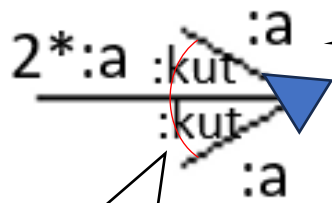


### Upute:

Jedno od mogućih rješenja je da:

Nacrtajmo prvo jednu strelicu krenuvši od dolje označenog početnog položaja.





Nacrtamo lijevu  
kosu linije  
duljine :a i  
skrenemo  
lijevo.

**lt 2\* :kut**

Ponovimo sve to :n puta - repeat :n

**Rješenje:**

```
to strelice :n :a :kut
rt 90
repeat :n[
  fd :a
  lt 180-:kut
  fd :a/2
  pu bk :a/2 ppt
  lt 2* :kut
  fd :a/2
  pu bk :a/2 ppt
  rt :kut
  rt 180
  pu fd :a ppt
]
end
```